

Ordena z.
Nº orden

HEZIKETA ZIKLOETARA SARTZEKO PROBA *PRUEBA DE ACCESO A CICLOS FORMATIVOS*

Goi Mailako Zikloak / *Ciclos de Grado Superior*

Atal espezifikoa / *Parte específica*

A

Geografia / *Geografía*

NAN / DNI		Izena / Nombre	
Abizenak / Apellidos			
Sinadura / Firma			

2023ko apirila / *abril de 2023*



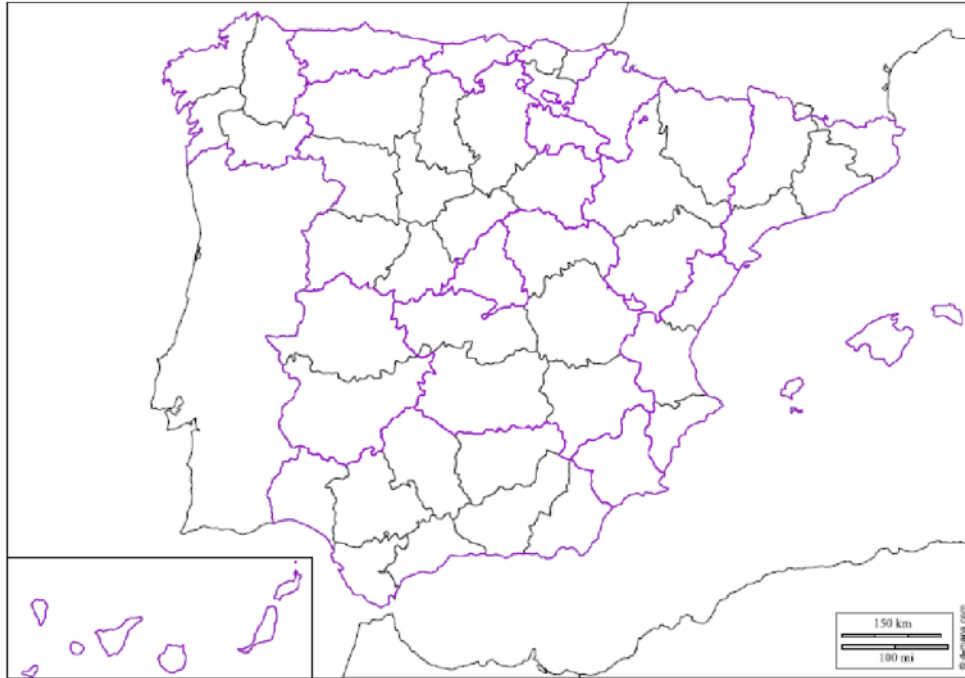
A. LOTU kontzeptu bakoitza bere definizioarekin. horretarako, **BETE** erdiko zutabea, zenbaki bakoitza (kontzeptua) dagokion lekuan idatziz (definizioa). **(2 puntu, 0,2 puntu erantzun zuzen bakoitzeko)**

1. Metropoli- area		Estatu baten oinarrizko araua da, "legeen legetzat" hartzen da. Bertan jasotzen dira oinarrizko printzipio demokratikoak, gobernu-modua, estatuko hiru botereen mugak eta funtzioak (betearazlea, legegilea eta judiziala), lurralde- eta administrazio-antolamendua eta herritarren eskubideak eta betebeharrak.
2. Biodibertsitatea		Nekazaritzarekin lotutako industrien multzoa. Nekazaritzako, abeltzaintzako eta basogintzako produktuak eta bestelako baliabide natural biologikoak ekoizten, industrializatzen eta merkaturatzen dituen jarduera ekonomikoa ere bada.
3. Konstituzioa		Presio atmosferiko bera duten puntuak lotzeko denbora-mapetan marrazten den lerroa.
4. Nekazaritzako ustategia		Prezipitazio bera jasotzen duten puntuak lotzeko mapetan marrazten den lerroa.
5. Giza garapenaren indizea (GGI)		Biztanleko herrialde baten aberastasuna neurtzeko erabiltzen den adierazlea da. Horretarako, urtebeteko ekoizpen osoaren balioa urte horretako biztanle kopuruaz zatitzen da. Kalkulua dolarretan egiten da eta Erosteke Ahalmenearen Paritateetan adierazten da.
6. Isobara		Instalazio bat da, neurri handi batean lurpekoa, hiri barruko eta hiriarteko autobus-lineak, aldiriko trenbideak, metroak eta autobia nagusiak bat egin ahal izateko diseinatua.
7. Barne produktu gordina (BPG)		Nekazaritza-produktuak titular bakar baten ardurapean lortzen diren unitate ekonomikoa. Propietate desberdinez osatuta egon daiteke, betiere produkzio-bitarteko berberak erabiltzen badira.
8. Nekazaritza industria		Leku batean dauden espezieen edo populazioen kopurua adierazten du. Zentzu zabalean, bizitza osoaren aniztasuna izendatzeko erabiltzen da.
9. Isoyeta		Herrialde baten ongizate-maila ezagutzeko aukera ematen duen adierazle soziala da. Nazio Batuen Garapenerako Programak (PNUD) egin zuen, eta osasunarekin (jaiotzako bizi-itxaropena), hezkuntzarekin (helduen alfabetatze-tasa eta ikasketa-maila) eta bizi- mailarekin (biztanleko BPGa PPA-n dolarretan) lotutako adierazleak hartzen ditu kontuan.
10. Aldageltoki		Hiri nagusi oso dinamiko batek eta bere eraginez, modu osagarrian, hazten diren hurbileko beste hiri batzuek osatzen duten hiri-multzoa. Udalaz gaindiko plangintza egiteko eta zerbitzu eta obra jakin batzuk koordinatu ahal izateko, legez onartuta egon behar du.



B. Egin ESTATU ESPAINIOLAREN inguruko hurrengo bi ariketak (2 puntu)

1. **IDATZI** taulan Autonomi- Erkidegoak bere hiriburuarekin eta bakoitzaren banaketa probintzietan, eta **KOKATU** mapan dagokion autonomiaren zenbakia: (1,5 puntu: 0,05 puntu erantzun zuzen bakoitzeko)



AUTONOMIA	HIRIBURUA	PROBINTZIAK	AUTONOMIA	HIRIBURUA	PROBINTZIAK
1. GALIZIA			4. KATALUNIA		
2. EAE			5. ARAGOI		
3. EXTREMADURA			6. KANARIAR UHARTEAK		

2. Zer da Komunitate Autonomikoa? (0,5 puntu)

.....

.....

.....

.....

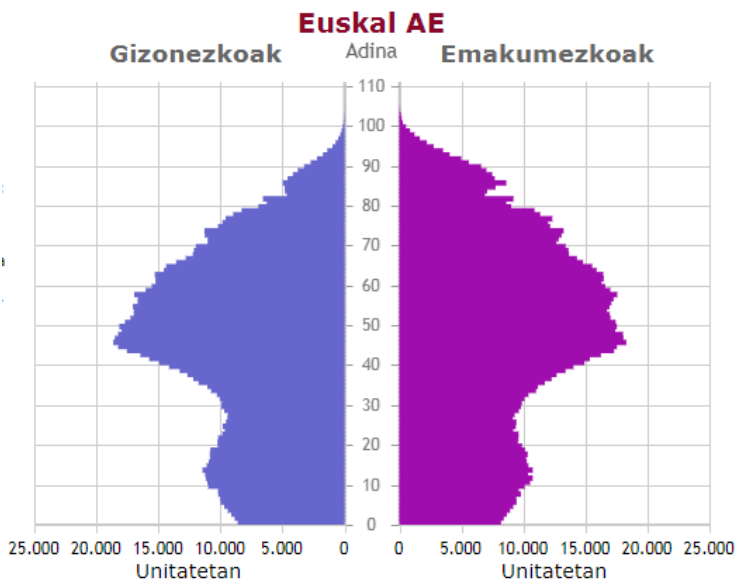
.....

.....

.....



C. Grafikoari arreta ipini eta **EAEko BIZTANLERI- PIRAMIDEA**ren (2022) inguruko galderei erantzun : (2 puntu)



1. Zergatik **80-90** adin tartean nabarmentzen da sargune bat: (0,5 puntu)

.....

.....

.....

.....

.....

.....

.....

.....

.....

.....

2. Zergatik **40-50** adin tartea biztanle kopuru altuena duena da? (0,5 puntu)

.....

.....

.....

.....

.....

3. Zergatik **10- 20** adin tartean biztanle hazkuntza egon zen? (0,5 puntu)

.....

.....

.....

.....

.....

4. Zer nolako **bilakaera** izango du piramide mota honek datorren urteetan? (0,5 puntu)

.....

.....

.....

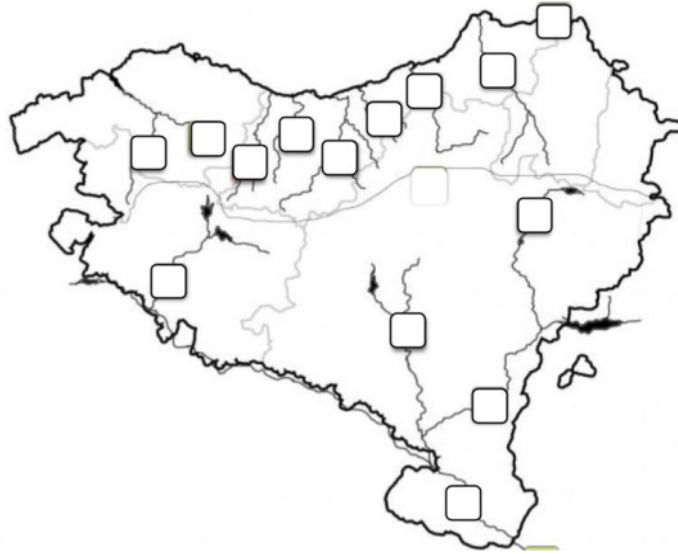
.....

.....

.....

.....

D. Erantzun hurrengo galderak **EUSKAL HERRIKO SARE HIDROGRAFIKO**aren mapari arreta ipintzen: (2 puntu)



1. Kokatu mapan markatutako **IBAIAK** eta idatzi taulan dagokion **ISURIALDE**aren izena. (1,4 puntu: 0,1 erantzun zuzen bakoitzeko).

ZKIA.	IBAIA	ISURIALDE	ZKIA.	IBAIA	ISURIALDE
1.	Errobi		8.	Zadorra	
2.	Arga		9.	Bidasoa	
3.	Aturri		10.	Nerbioi	
4.	Irati		11.	Urola	
5.	Ibaizabal		12.	Urumea	
6.	Oria		13.	Ebro	
7.	Deba		14.	Aragoi	

2. Adierazi **EUSKAL HERRIKO ISURIALDE** bakoitzeko ibaien ezaugarri orokorrak: (0,6 puntu)

.....

.....

.....

.....

.....

.....

.....

.....

.....

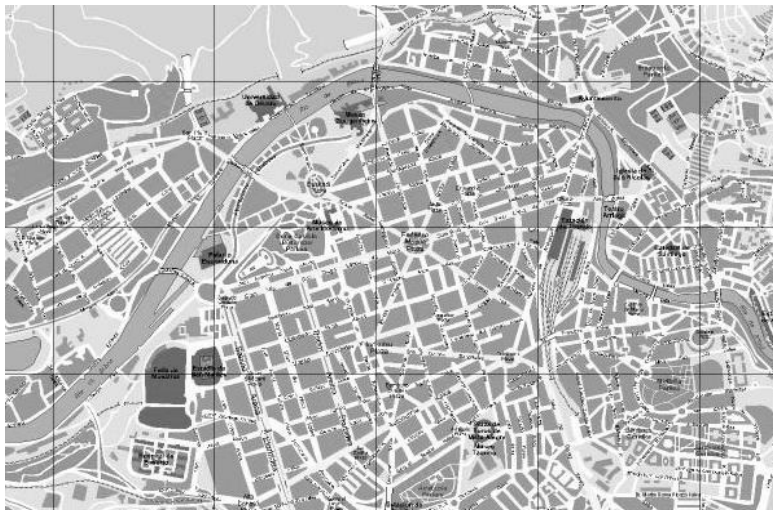
.....



E. Hiriaren morfologia: **ALDE ZAHARRA** eta **ZABALGUNEA** (2 puntu)

1. **SEINALATU** planoetan Alde Zaharra eta Zabalgunea (0,5 puntu; 0,25 mapa bakoitzean ondo seinalatzeagatik)

BILBO



DONOSTIA



2. **DEFINITU** hurrengo kontzeptuak: (1,5 puntu)

ALDE ZAHARRA: (0,75 puntu)

.....

.....

.....

.....

.....

.....

ZABALGUNEA: (0,75 puntu)

.....

.....

.....

.....

.....

.....



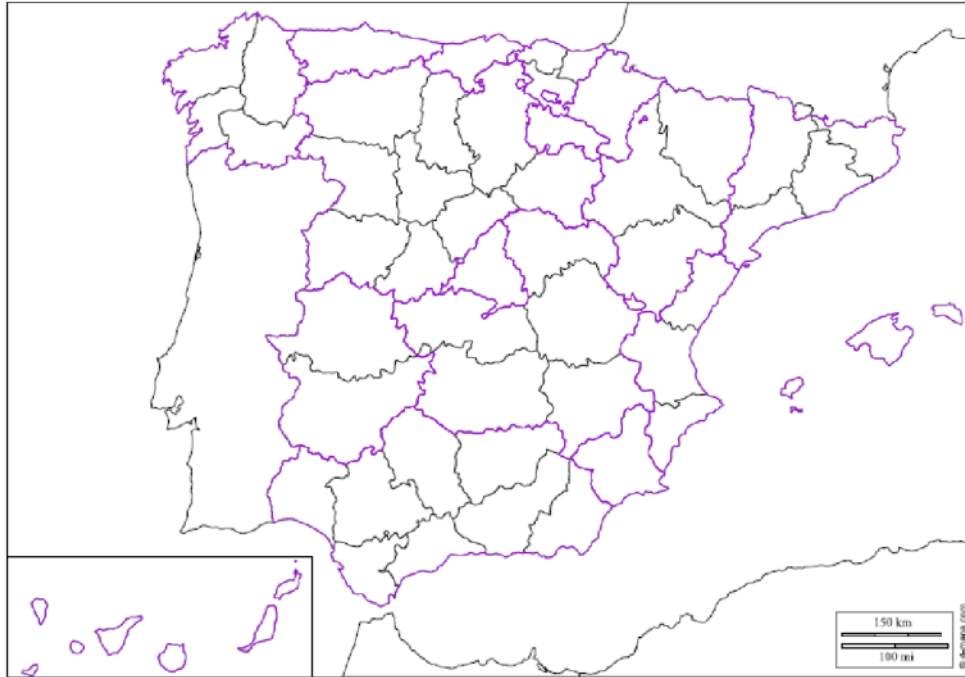
A. Relaciona cada concepto con su **DEFINICIÓN**, para ello completa la columna del medio, escribiendo en el lugar correspondiente (definición) cada número (concepto). (2 puntos: 0,2 puntos por cada respuesta acertada)

1. Área metropolitana		Es la norma fundamental de un estado, es considerada "ley de leyes". En ella se recogen los principios democráticos fundamentales, la forma de gobierno, los límites y las funciones de los tres poderes del estado (ejecutivo, legislativo y judicial), la organización territorial y administrativa y los derechos y deberes de los ciudadanos.
2. Biodiversidad		Conjunto de industrias vinculadas a la agricultura. También es la actividad económica que se dedica a la producción, industrialización y comercialización de productos agropecuarios, forestales y otros recursos naturales biológicos.
3. Constitución		Línea que se traza en los mapas de tiempo para unir puntos que presentan la misma presión atmosférica.
4. Explotación agraria		Línea que se traza en los mapas para unir puntos que reciben la misma precipitación.
5. Índice de desarrollo humano (IDH)		Es un indicador que se utiliza para medir la riqueza de un país por habitante. Para ello se divide el valor de toda la producción de un año entre el número de habitantes de ese mismo año. El cálculo se realiza en dólares y se expresa en Paridades de Poder Adquisitivo (PPA).
6. Isobara		Es una instalación, en gran parte subterránea, diseñada para que puedan coincidir líneas de autobuses urbanos e interurbanos, ferrocarriles de cercanías, metros y autovías principales.
7. Producto interior bruto (PIB)		Unidad económica de la que se obtienen productos agrarios bajo la responsabilidad de un único titular. Puede estar formada por distintas propiedades, siempre que se empleen los mismos medios de producción.
8. Agroindustria		Expresa el número de especies o de poblaciones distintas existentes en un lugar. En sentido amplio, se utiliza para designar la diversidad de la vida en su conjunto.
9. Isoyeta		Es un indicador social que permite conocer el grado de bienestar de un país. Fue elaborado por el Programa de las Naciones Unidas para el Desarrollo (PNUD) y considera indicadores relacionados con la salud (esperanza de vida al nacer), la educación (tasa de alfabetización de adultos y nivel de estudios) y el nivel de vida (PIB per cápita en PPA en dólares).
10. Intermodal		Conjunto urbano formado por una ciudad principal muy dinámica y varias inmediatas que, por su influencia, crecen de forma complementaria. Debe poseer un reconocimiento legal que permita realizar un planeamiento supramunicipal y coordinar determinados servicios y obras.



B. Realiza los dos siguientes ejercicios sobre EL ESTADO ESPAÑOL (2 puntos)

1. **ESCRIBE** en la tabla la Comunidad Autónoma con su capital y su distribución por provincias, y en el mapa **SITÚA** el número de autonomía correspondiente: **(1,5 puntos: 0,05 puntos por respuesta correcta)**



AUTONOMÍA	CAPITAL	PROVINCIA	AUTONOMÍA	CAPITAL	PROVINCIA
1. GALICIA			4. CATALUÑA		
2. CAV			5. ARAGÓN		
3. EXTREMADURA			6. ISLAS CANARIAS		

2. ¿Qué es la Comunidad Autónoma? **(0,5 puntos)**

.....

.....

.....

.....

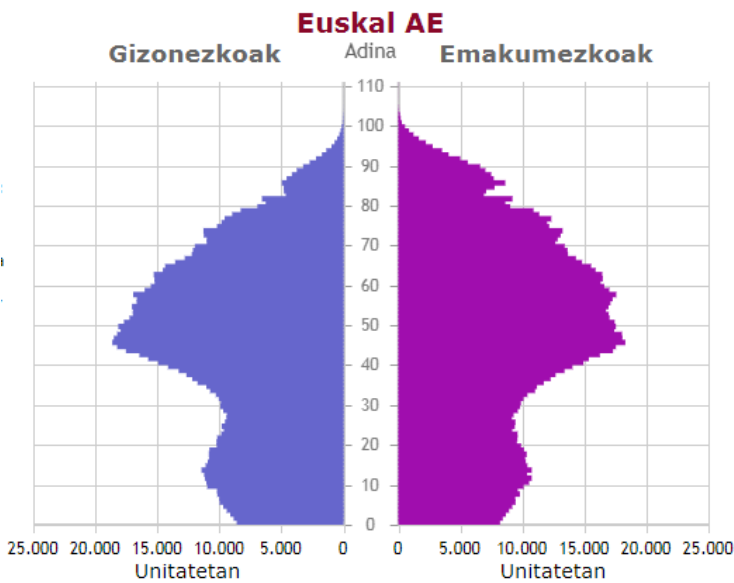
.....

.....

.....



C. Presta atención al gráfico y responde a las preguntas sobre la PIRÁMIDE DE POBLACIÓN DE LA CAPV (2022): (2 puntos)



1. ¿Por qué entre los **80 y 90 años** destaca un pequeño entrante? : (0,5 puntos)

.....

.....

.....

.....

.....

.....

.....

.....

.....

.....

2. ¿Por qué en el intervalo de edad de **40-50 años** es el de mayor número de habitantes? (0,5 puntos)

.....

.....

.....

.....

.....

3. ¿Por qué hubo crecimiento de población en el intervalo de edad de **10-20 años**? (0,5 puntos)

.....

.....

.....

.....

.....

4. ¿Cómo **evolucionará** este tipo de pirámides en los próximos años? (0,5 puntos)

.....

.....

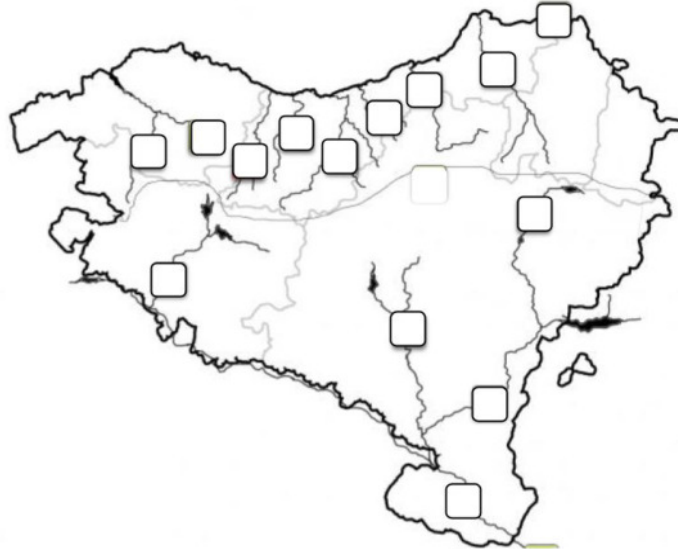
.....

.....

.....

.....

D. Responde a las siguientes preguntas mirando el mapa de la **RED HIDROGRÁFICA DEL PAÍS VASCO: (2 puntos)**



1. Pon los números de los **RÍOS** en el mapa y anota en la tabla el nombre de la **VERTIENTE** correspondiente. (1,4 puntos: 0,1 por respuesta correcta).

Nº.	RIO	VERTIENTE	Nº.	RIO	VERTIENTE
1.	Errobi		8.	Zadorra	
2.	Arga		9.	Bidasoa	
3.	Aturri		10.	Nerbioi	
4.	Irati		11.	Urola	
5.	Ibaizabal		12.	Urumea	
6.	Oria		13.	Ebro	
7.	Deba		14.	Aragoi	

2. Indique las características generales de los ríos de cada **VERTIENTE DEL PAÍS VASCO:**
(0,6 puntos)

.....

.....

.....

.....

.....

.....

.....

.....

.....

.....



E. Morfología de la ciudad: **CASCO VIEJO y ENSANCHE (2 puntos)**

1. **SEÑALAR** en los planos el Casco Viejo y el Ensanche **(0,5 puntos; 0,25 por señalar bien en cada mapa)**

BILBAO

DONOSTIA



2. **DEFINE** los siguientes conceptos: **(1,5 puntos)**

CASCO VIEJO: (0,75 puntos)

.....

.....

.....

.....

.....

.....

ENSANCHE: (0,75 puntos)

.....

.....

.....

.....

.....

.....